


これから5つの宝を探しに行きます。宝の場所への行き方はトランプを使って書かれていました。トランプの意味が下のようになっているとき、宝が入っているマス塗りつぶしてください。

行き方は全て、スタート位置からの行き方が書かれています。


たから
お宝①②のルール




うえ うご
上に動く



みぎ うご
右に動く



した うご
下に動く





ひだり うご
左に動く



カードの数字は、動くマスの数

たから ばしょ
お宝①②の場所


①




②




たから
お宝③④のルール




まえすす
前に進む



みぎむ
右を向く
どみぎかいてん
(90度右回転)



うしすす
後ろに進む







ひだりむ
左を向く
どひだりかいてん
(90度左回転)

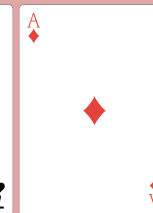

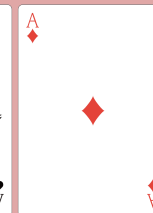
すうじ うご かいすう
カードの数字は、動く回数

たから ばしょ
お宝③④の場所

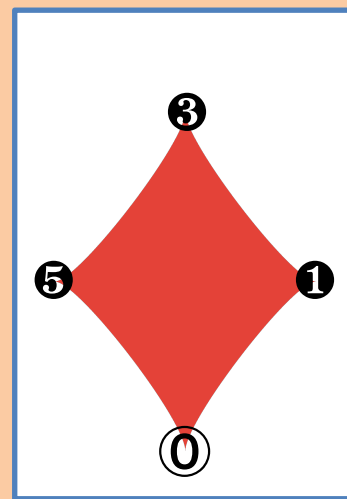
③



④



たから ばしょ
お宝⑤の場所



答え

たからさが
トランプで宝探し

