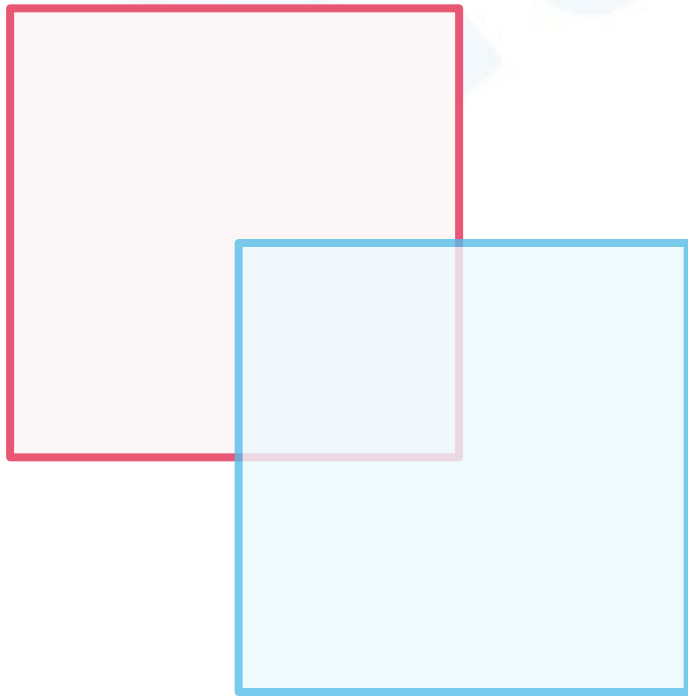


まい お がみ かさ かさ ぶぶん ずけい つく
Q. 2枚の折り紙を重ねて、重なった部分で図形を作ります。

した か ずけい つく
下に書いてある7つの図形を作ることができるかな？

つく
作れたら□にチェックしよう！



ちよっかくにとうへんさんかくけい
 直角二等辺三角形

ちょうほうけい
 長方形

せいほうけい
 正方形

ごかくけい
 五角形

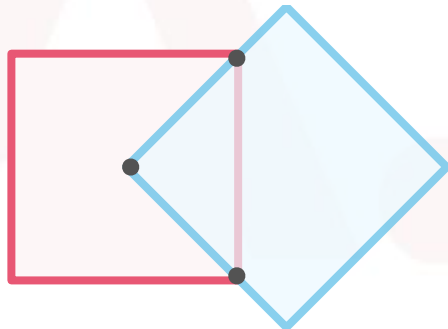
ろっかくけい
 六角形

しちかくけい
 七角形

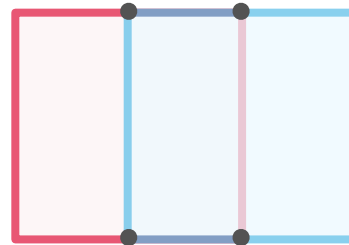
はちかくけい
 八角形

じっさい お がみ かさ かたち つく うし あ み
実際に折り紙を重ねて、形を作ってみよう！（後ろからライトを当てると見やすいよ！）

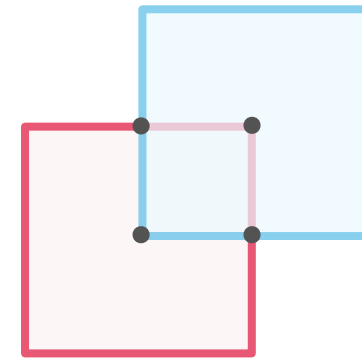
ぜんぶ つく
全部作れます！



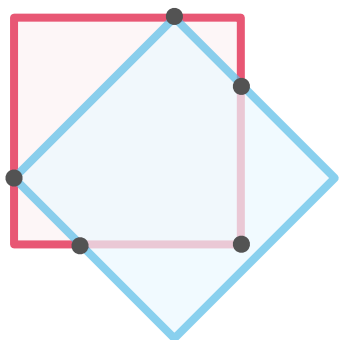
ちよっかくにとうへんさんかくけい
(1) 直角二等辺三角形



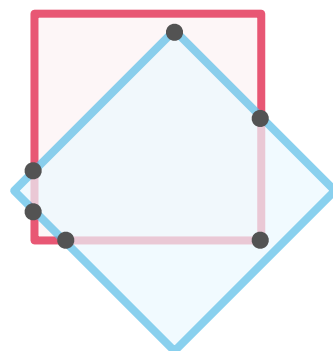
ちょうほうけい
(2) 長方形



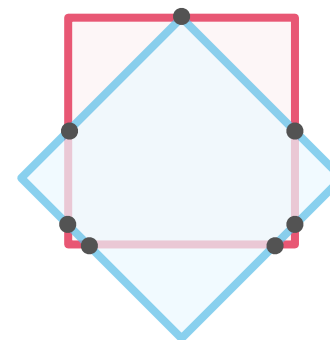
せいほうけい
(3) 正方形



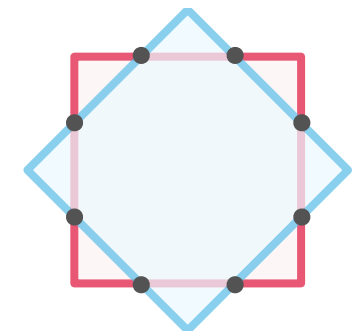
ごかくけい
(4) 五角形



ろっかくけい
(5) 六角形



しちかくけい
(6) 七角形



はちかくけい
(7) 八角形

ほかにはどんな形が作れるかな？探してみよう！