

ほんとう じかん  
本当の時間は？①



した ず とけい じょうげぎやく ず  
下の図は時計が上下逆になっている図です。

じっさい ひょうじ  
実際はどう表示されていますか？



18:52




ほんとう じかん  
本当の時間は？②



した ず とけい さゆうぎやく ず  
下の図は時計が左右逆になっている図です。

じっさい ひょうじ  
実際はどう表示されていますか？

09:21



ほんとう じかん  
本当の時間は？③



した ず とけい じょうげさゆう さか ず  
下の図は時計が上下左右で逆さまになっている図です。

じっさい ひょうじ  
実際はどう表示されていますか？



94:50




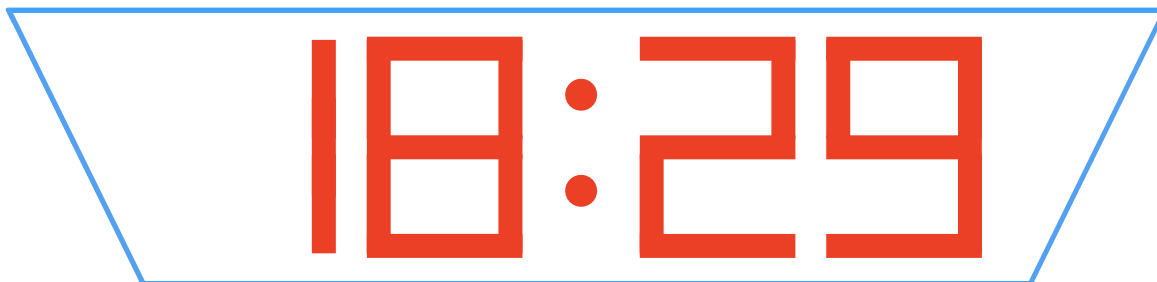
ほんとう じかん  
本当の時間は？① こたえ



じょうげぎやく

なお

上下逆になっているのを直します。





さゆうぎやく

なお

左右逆になっているのを直します。


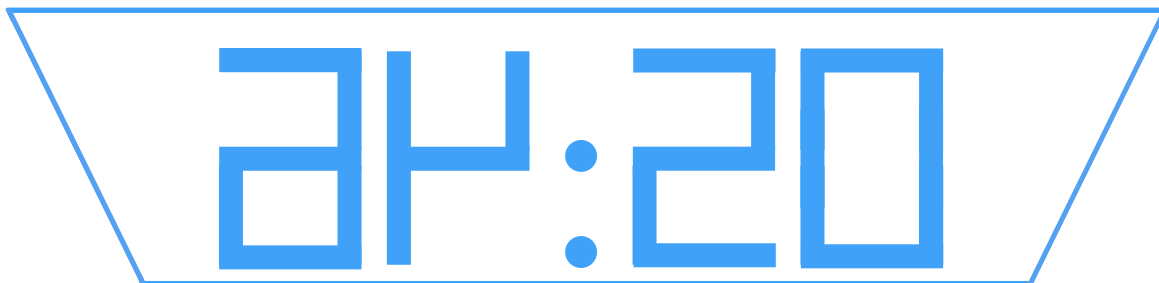
0E:31

16:30





じょうげぎやく なお  
まずは上下逆になっているのを直します。





つぎ さゆうぎやく なお  
次に左右逆になっているのを直します。

24:20

05:46

