

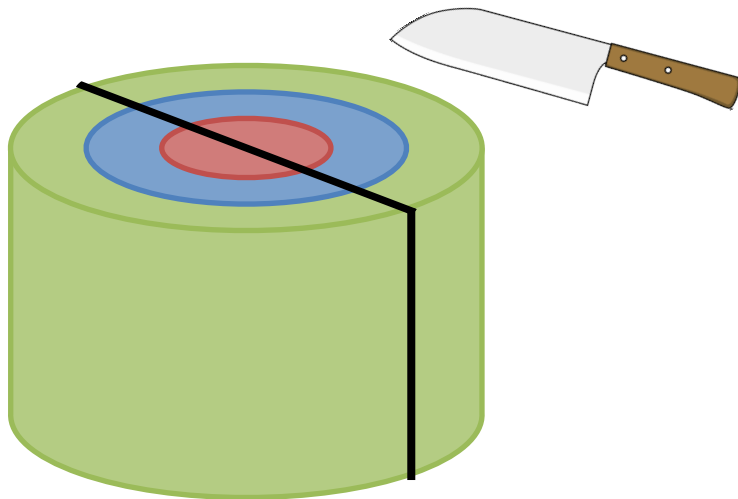


き くち
切り口クイズ！ ①



した いろわ えんちゆう せん とお き
下のように色分けされた円柱を、線の通りに切ります。

き き くち
切ったときの“切り口”は①～③のうちどれでしょう？

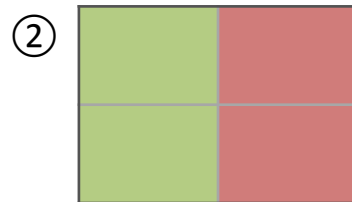
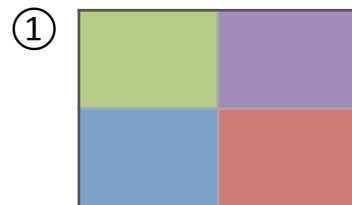
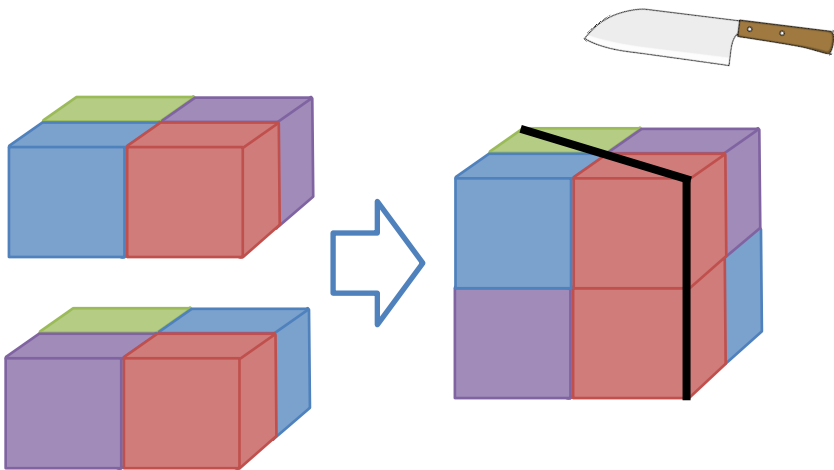


き くち
切り口クイズ！ ②



した いろわ りっぽうたい せん とお き
下のように色分けされた立方体を、線の通りに切ります。

き き くち
切ったときの“切り口”は①～③のうちどれでしょう？

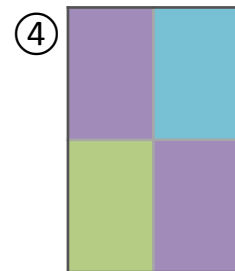
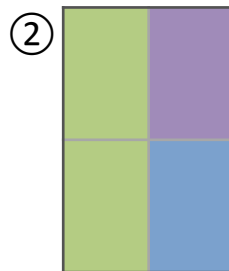
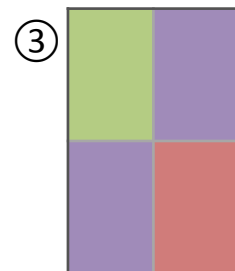
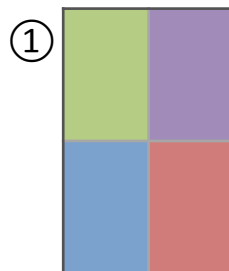
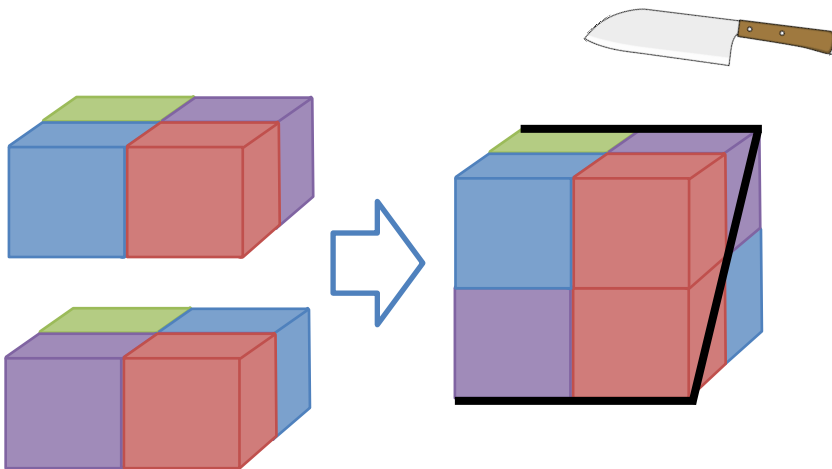


き くち
切り口クイズ！ ③



した いろわ りっぽうたい せん とお き
下のように色分けされた立方体を、線の通りに切ります。

き き くち
切ったときの“切り口”は①～③のうちどれでしょう？



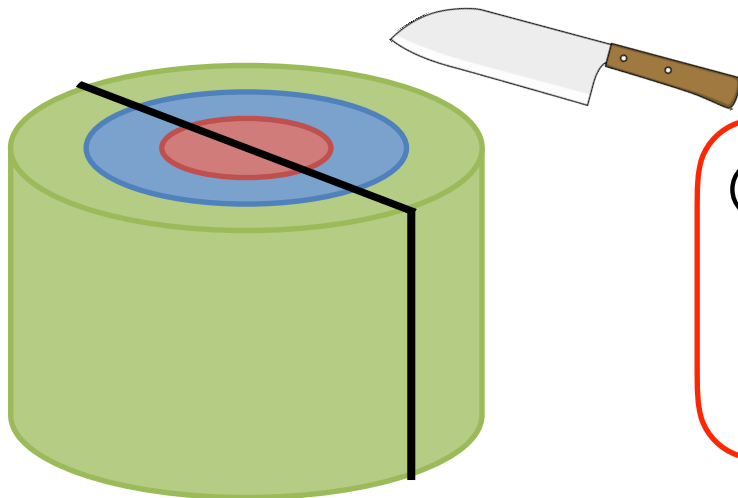
き くち
切り口クイズ！ ①

こたえ



した いろわ えんちゆう せん とお き
下のように色分けされた円柱を、線の通りに切ります。

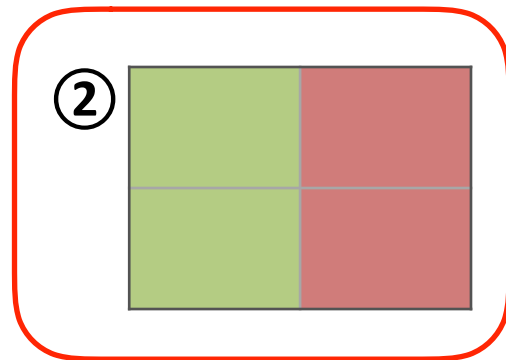
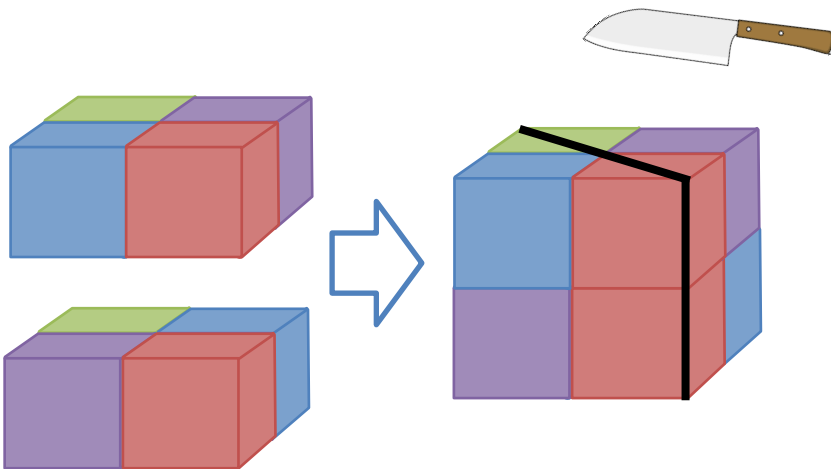
き き くち
切ったときの“切り口”は①～③のうちどれでしょう？





した いろわ りっぽうたい せん とお き
下のように色分けされた立方体を、線の通りに切ります。

き き ぐち
切ったときの“切り口”は①～③のうちどれでしょう？





した いろわ りっぽうたい せん とお き
下のように色分けされた立方体を、線の通りに切ります。

き き くち
切ったときの“切り口”は①～③のうちどれでしょう？

